

अनुक्रमांक

नाम

932

825(CD)

2022

सामाजिक विज्ञान

( Hindi and English Versions )

समय : तीन घण्टे 15 मिनट [ पूर्णांक : 70

नोट : प्रारम्भ के 15 मिनट परीक्षार्थियों को प्रश्नपत्र पढ़ने के लिए निर्धारित हैं।

**Note:** First 15 minutes are allotted for the candidates to read the question paper.

निर्देश : i) यह प्रश्नपत्र दो खण्डों क एवं ख में विभाजित है। प्रत्येक खण्ड के सभी प्रश्न एक साथ हल करना आवश्यक है। प्रत्येक खण्ड का उत्तर नए पृष्ठ से प्रारम्भ किया जाय।

ii) प्रत्येक प्रश्न के लिए निर्धारित अंक उसके सम्मुख अंकित हैं।

825(CD)

2

- iii) प्रश्नपत्र में चार प्रकार के प्रश्न हैं — बहुविकल्पीय, अति लघु उत्तरीय, लघु उत्तरीय व दीर्घ उत्तरीय, जिनके सम्बन्ध में निर्देश उनके आरम्भ में दिये गये हैं।
- iv) क तथा ख खण्डों हेतु दिये गये मानचित्रों को उत्तर-पुस्तिका में मजबूती के साथ संलग्न करना आवश्यक है।
- v) दृष्टिबाधित परीक्षार्थियों के लिये मानचित्र कार्य के स्थान पर अलग से खण्ड - क में प्रश्न संख्या 14 तथा खण्ड - ख में प्रश्न संख्या 28 के उत्तर लिखने के लिये दिये गये हैं।

**Instructions :**

- i) This question paper is divided into *two* Parts A & B. Attempt all the questions of each part together at one place. Each part should be attempted on a new page.
- ii) Marks allotted for each question are mentioned against them.
- iii) This question paper contains *four* types of questions — Multiple-choice type, Very Short Answer type, Short Answer type and Long Answer type. Instructions have been given at the beginning of each type of question.

- iv) Attach firmly the supplied maps for Parts - A & B to your answer-book.
- v) For vision-impaired examinees Question No. 14 in Part-A and Question No. 28 in Part-B have been given separately for writing answers in lieu of map work.

खण्ड - क

**PART - A**

( बहुविकल्पीय प्रश्न )

**( Multiple Choice Type Questions )**

निर्देश : निम्नलिखित विकल्पों में से सही उत्तर चुनकर अपनी उत्तर पुस्तिका में लिखिए :

*Instruction :* Choose the correct answer from the given alternatives and write in your answer-book :

1. फ्रांसीसी क्रान्ति का प्रारम्भ किस वर्ष हुआ ?  
क) 1688                      ख) 1789  
ग) 1815                      घ) 1830.                      1
1. French revolution started in  
a) 1688                      b) 1789  
c) 1815                      d) 1830.                      1
2. जर्मन संस्कृति में 'वोक्सजिस्ट' का आशय था  
क) राष्ट्र                      ख) संविधान  
ग) आम जनता              घ) संसद।                      1
2. In German culture 'Volksgeist' refers to  
a) Nation                      b) Constitution  
c) Common people        d) Parliament.              1

3. संसदीय प्रजातन्त्र की स्थापना किस देश में सर्वप्रथम हुई ?  
क) इटली                      ख) इंग्लैण्ड  
ग) फ्रांस                      घ) जर्मनी।                      1
3. First of all parliamentary democracy was established in  
a) Italy                      b) England  
c) France                      d) Germany.                      1
4. चौरी-चौरा काण्ड किस वर्ष घटित हुआ ?  
क) 1920                      ख) 1921  
ग) 1922                      घ) 1925.                      1
4. Chauri-Chaura incident took place in the year of  
a) 1920                      b) 1921  
c) 1922                      d) 1925.                      1
5. निम्नलिखित में से क्या राज्य सूची का विषय नहीं है ?  
क) पुलिस                      ख) कृषि  
ग) सिंचाई                      घ) मुद्रा।                      1
5. Which one of the following is not a state subject ?  
a) Police                      b) Agriculture  
c) Irrigation                      d) Currency.                      1
6. भारतीय संघ में अवशिष्ट शक्तियाँ किसको प्राप्त है ?  
क) राज्य  
ख) संघ  
ग) (क) और (ख) दोनों  
घ) इनमें से कोई नहीं।                      1
6. Who has the residuary powers in India ?  
a) State                      b) Union  
c) Both (a) and (b)        d) None of these.              1

( अति लघु उत्तरीय प्रश्न )

## ( Very Short Answer Type Questions )

7. भारत छोड़ो आन्दोलन क्यों प्रारम्भ करना पड़ा ? इसका प्रमुख नारा क्या था ? 1 + 1
7. Why was the Quit India movement launched ? What was its main slogan ? 1 + 1
8. ब्रिटेन के राष्ट्रीय झण्डा तथा राष्ट्रगान का उल्लेख कीजिए। 1 + 1
8. Mention the national flag and national anthem of Britain. 1 + 1
9. लोकतन्त्र किन माध्यमों से उत्तरदायी, जिम्मेदार और वैध सरकार का गठन करता है ? 2
9. By which methods democracy establishes liable, responsible and legal government ? 2

( लघु उत्तरीय प्रश्न )

## ( Short Answer Type Questions )

10. महात्मा गाँधी ने राष्ट्रीय स्वाधीनता संग्राम में सत्याग्रह एवं अहिंसा का किस प्रकार प्रयोग किया ? कोई दो उदाहरण दीजिए। 1½ + 1½

अथवा

लोकतन्त्र की सफलता के लिए आवश्यक दो घटकों का उल्लेख कीजिए। 1½ + 1½

10. How was Satyagraha and Ahimsa used in Indian independence movement by Mahatma Gandhi ? Give any *two* examples. 1½ + 1½

OR

What are the *two* necessary factors for the success of democracy ? 1½ + 1½

11. भारतीय अर्थव्यवस्था पर वैश्विक आर्थिक महामंदी के किन्हीं तीन परिणामों का उल्लेख कीजिए। 1 + 1 + 1

अथवा

"भारतीय संघवाद एक अर्द्ध-संघीय ढाँचा है।" इसकी पुष्टि में किन्हीं तीन कारकों का उल्लेख कीजिए। 1 + 1 + 1

11. Mention any *three* results of global economic depression on Indian economy. 1 + 1 + 1

OR

"Indian union is a quasi-federal structure." Mention any *three* factors to prove it. 1 + 1 + 1

( दीर्घ उत्तरीय प्रश्न )

## ( Long Answer Type Questions )

12. यूरोप में राष्ट्रवाद के उदय में जर्मनी एवं इटली के एकीकरण का योगदान बताइए। 3 + 3

अथवा

वैश्विक आर्थिक महामंदी के किन्हीं तीन कारणों का उल्लेख कीजिए। 2 + 2 + 2

12. What was the role of unification of Germany and Italy in the rise of European nationalism ?  
3 + 3

OR

Mention any *three* causes of global economic depression.  
2 + 2 + 2

13. भारतीय संविधान की संघात्मक विशेषताओं का उल्लेख कीजिए। आपातकाल में यह किस प्रकार एकात्मक हो जाता है ?  
3 + 3

अथवा

भारत में स्थानीय स्वशासन की किन्हीं तीन गुणों एवं समस्याओं का उल्लेख कीजिए।  
3 + 3

13. Mention the federal characteristics of the Constitution of India. How does it become unitary in emergency ?  
3 + 3

OR

Mention any *three* merits and problems of the local self government in India.  
3 + 3

( मानचित्र सम्बन्धी प्रश्न )

( Map Work )

निर्देश : निम्नलिखित स्थानों को भारत के दिये गये रेखा मानचित्र में ⊙ चिह्न द्वारा नाम सहित दर्शाइए। सही नाम तथा सही अंकन के लिये  $\frac{1}{2}$ ,  $\frac{1}{2}$  अंक निर्धारित हैं :

Instruction : In the given outline map of India locate the following places by the symbol ⊙ with names. For correct mention of name and location  $\frac{1}{2}$ ,  $\frac{1}{2}$  marks have been allotted.

14. i) वह स्थान जहाँ अंग्रेजों ने अपनी पहली राजधानी बनायी।  
 $\frac{1}{2} + \frac{1}{2}$
- ii) वह स्थान जहाँ 1929 में कांग्रेस अधिवेशन हुआ।  
 $\frac{1}{2} + \frac{1}{2}$
- iii) वह स्थान जहाँ जलियाँवाला बाग काण्ड हुआ था।  
 $\frac{1}{2} + \frac{1}{2}$
- iv) वह स्थान जहाँ सूती श्रमिकों का सत्याग्रह हुआ।  
 $\frac{1}{2} + \frac{1}{2}$
- v) वह स्थान जहाँ किसान सत्याग्रह हुआ।  
 $\frac{1}{2} + \frac{1}{2}$
14. i) The place which was the first capital of Britishers.  
 $\frac{1}{2} + \frac{1}{2}$
- ii) The place where the Congress session took place in 1929.  
 $\frac{1}{2} + \frac{1}{2}$
- iii) The place where Jallianwala Bagh incident took place.  
 $\frac{1}{2} + \frac{1}{2}$
- iv) The place where Cotton Mill Workers' Satyagraha started.  
 $\frac{1}{2} + \frac{1}{2}$
- v) The place where the Farmers' Satyagraha took place.  
 $\frac{1}{2} + \frac{1}{2}$

( केवल दृष्टिबाधित परीक्षार्थियों के लिये  
मानचित्र कार्य के विकल्प के रूप में )

( Only for visually-impaired examinees in  
lieu of Map work )

निर्देश : निम्न प्रश्नों के उत्तर अपनी उत्तर-पुस्तिका में लिखिए।  
मानचित्र का प्रयोग न कीजिए।

Instruction : Write the answers of the following  
questions in your answer-book. Do  
not use map.

14. i) किस स्थान पर अंग्रेजी ने अपनी पहली राजधानी  
बनायी ? 1
- ii) किस स्थान पर 1929 में कांग्रेस अधिवेशन हुआ ? 1
- iii) जलियाँवाला बाग काण्ड कहाँ हुआ था ? 1
- iv) सूती मिल श्रमिकों का सत्याग्रह कहाँ हुआ था ? 1
- v) किस स्थान पर किसान सत्याग्रह हुआ ? 1
14. i) Which was the first capital of  
Britishers ? 1
- ii) Where did the Congress session take  
place in 1929 ? 1
- iii) Where did Jallianwalla Bagh incident  
take place ? 1
- iv) Where was Cotton Mill Workers'  
Satyagraha taken place ? 1
- v) Where did the Farmers' Satyagraha  
take place ? 1

खण्ड - ख

PART - B

( बहुविकल्पीय प्रश्न )

( Multiple Choice Type Questions )

निर्देश : निम्नलिखित विकल्पों में से सही उत्तर चुनकर अपनी  
उत्तर-पुस्तिका में लिखिए :

Instruction : Choose the correct answer from the  
following options and write in your  
answer-book.

15. किसी देश के विकास को निर्धारित करने का आधार है
- क) स्वास्थ्य व शिक्षा का स्तर
- ख) प्रति व्यक्ति आय
- ग) व्यक्तियों का साक्षरता स्तर
- घ) इनमें से सभी। 1
15. The parameter to determine the  
development of a country is
- a) level of health and education
- b) per capita income
- c) level of literacy of the people
- d) all of these. 1
16. सेवा क्षेत्र निम्नलिखित में से किस क्षेत्र में सम्मिलित किया  
जाता है ?
- क) प्राथमिक क्षेत्र ख) द्वितीयक क्षेत्र
- ग) तृतीयक क्षेत्र घ) इनमें से कोई नहीं। 1

16. In which of the following is service sector included ?  
 a) Primary sector b) Secondary sector  
 c) Tertiary sector d) None of these. 1
17. निम्नलिखित में से कौन-सा ग्रामीण क्षेत्र में विकास का लक्ष्य है ?  
 क) नियमित कार्य ख) उपज की उचित कीमत  
 ग) बेहतर मजदूरी घ) इनमें से सभी। 1
17. Which of the following is an objective of rural development ?  
 a) Regular work  
 b) Appropriate price of the produce  
 c) Better wage  
 d) All of these. 1
18. बाँधों को ..... भी कहा जाता है।  
 क) बहुउद्देशीय परियोजनाएँ  
 ख) जल स्रोत  
 ग) बाढ़ नियन्त्रण का उपाय  
 घ) जल का भंडार। 1
18. Dams are also called  
 a) Multipurpose projects  
 b) Water resources  
 c) A way to control flood  
 d) Water reservoir. 1
19. दो राज्यों के बीच वस्तुओं का आदान-प्रदान कहलाता है  
 क) राष्ट्रीय व्यापार ख) अन्तरराष्ट्रीय व्यापार  
 ग) आन्तरिक व्यापार घ) वस्तु विनिमय। 1

19. Exchange of goods between two states is called  
 a) National Trade  
 b) International Trade  
 c) Internal Trade  
 d) Barter. 1
20. निम्नलिखित में से परिवहन का कौन-सा साधन अति दुर्गम स्थानों के लिए अत्यंत आवश्यक है ?  
 क) जल परिवहन ख) वायु परिवहन  
 ग) रेल परिवहन घ) स्थल परिवहन। 1
20. Which means of transportation in the following is most essential for the very inaccessible places ?  
 a) Waterways b) Airways  
 c) Railway d) Landway. 1

( अति लघु उत्तरीय प्रश्न )

( Very Short Answer Type Questions )

21. शिशु मृत्युदर का अर्थ लिखिए। 2
21. Write the meaning of Infant mortality. 2
22. उपभोक्ताओं के शोषण को रोकने के लिए किन्हीं दो उपायों का सुझाव दीजिए। 1 + 1
22. Suggest any two remedies to control the exploitation of consumers. 1 + 1
23. भारत में वन्य जीव चीते के विलुप्त होने के कोई दो कारण लिखिए। 1 + 1
23. Write any two reasons for the extinction of wild animal Cheetah in India. 1 + 1

( लघु उत्तरीय प्रश्न )

( Short Answer Type Questions )

24. कृषि क्षेत्र की तीन प्रमुख समस्याओं के नाम लिखिए।

1 + 1 + 1

अथवा

वैश्वीकरण से आप क्या समझते हैं ?

24. Write three main problems of Agricultural sector.

1 + 1 + 1

OR

What do you understand by globalisation ?

25. ऊर्जा के परम्परागत तथा नै-परम्परागत स्रोतों में अन्तर स्पष्ट कीजिए।

3

अथवा

भारत में लौह-अयस्क की किन्हीं तीन पेटियों के नाम लिखिए।

1 + 1 + 1

25. Clarify the difference between the conventional energy sources and non-conventional energy sources.

3

OR

Write the names of any three iron ore belts in India.

1 + 1 + 1

( दीर्घ उत्तरीय प्रश्न )

( Long Answer Type Questions )

26. भू-संसाधन का अर्थ लिखिए। एक संसाधन के रूप में भूमि का उपयोग किन उद्देश्यों के लिए किया जाता है ? व्याख्या कीजिए।

1 + 5

अथवा

भारत की मुख्य फसलों पर एक टिप्पणी लिखिए।

6

[ Turn over

26. Write the meaning of Land resources. For what objective land as a resource is used ? Explain.

1 + 5

OR

Write a note on the main crops in India. 6

27. संगठित तथा असंगठित कार्य-क्षेत्र के अन्तर को स्पष्ट कीजिए। असंगठित क्षेत्र में श्रमिकों के शोषण को रोकने के लिए आप क्या सुझाव देंगे ?

3 + 3

अथवा

आर्थिक क्रियाओं के क्षेत्रों के नाम लिखिए। पिछले कुछ वर्षों में भारत में तृतीयक क्षेत्र के बढ़ते हुए महत्व के मुख्य कारण क्या हैं ? समझाइए।

6

27. Clarify the difference between organised and unorganised working sectors. What suggestions would you give for preventing the exploitation of labour in the unorganised sector ?

3 + 3

OR











Write the names of the sectors of economic activities. What are the main reasons for the growing importance of the tertiary sector in India ?

6

( मानचित्र कार्य )  
( Map Work )

निर्देश : दिये गये भारत के मानचित्र में निम्नलिखित को दर्शाइए :

*Instruction :* Show the following on the given map of India.

28. i) हिमालयन यव पाए जाने वाले किसी एक प्रदेश का नाम  चिह्न सहित।  $\frac{1}{2} + \frac{1}{2}$
- ii) कॉफी की खेती करने वाले किसी एक राज्य का नाम  चिह्न सहित।  $\frac{1}{2} + \frac{1}{2}$
- iii) भारत के सबसे पुराने तेल उत्पादक राज्य का नाम  चिह्न सहित।  $\frac{1}{2} + \frac{1}{2}$
- iv) भारत के किसी एक परमाणु ऊर्जा केन्द्र का नाम  चिह्न सहित।  $\frac{1}{2} + \frac{1}{2}$
- v) मुम्बई नगर  चिह्न सहित।  $\frac{1}{2} + \frac{1}{2}$
28. i) Name of any state where Himalayan Yew is found with  sign.  $\frac{1}{2} + \frac{1}{2}$
- ii) Name of any state producing coffee with  sign.  $\frac{1}{2} + \frac{1}{2}$
- iii) Name of the oldest oil producing state with  sign.  $\frac{1}{2} + \frac{1}{2}$
- iv) Write the name of any atomic energy centre with  sign.  $\frac{1}{2} + \frac{1}{2}$
- v) Mumbai city with  sign.  $\frac{1}{2} + \frac{1}{2}$

●●J

[ Turn over

( केवल दृष्टिबाधित परीक्षार्थियों के लिये  
मानचित्र कार्य के विकल्प के रूप में )

( Only for vision-impaired examinees in lieu of map work )

निर्देश : निम्नलिखित प्रश्नों के उत्तर अपनी उत्तर-पुस्तिका में लिखिए। मानचित्र का प्रयोग न कीजिए।

*Instruction :* Write answers of the following questions in your answer-book. Do not use the map.

28. i) हिमालयन यव पाए जाने वाले किसी एक प्रदेश का नाम लिखिए। 1
- ii) कॉफी की खेती करने वाले किसी एक राज्य का नाम लिखिए। 1
- iii) भारत के सबसे पुराने तेल उत्पादक राज्य का नाम लिखिए। 1
- iv) भारत के किसी एक परमाणु ऊर्जा केन्द्र का नाम लिखिए। 1
- v) महाराष्ट्र की राजधानी का नाम लिखिए। 1
28. i) Write the name of any state where Himalayan Yew is found. 1
- ii) Write the name of any state producing coffee. 1
- iii) Write the name of the oldest oil producing state of India. 1
- iv) Write the name of any atomic energy producing centre. 1
- v) Write the name of the capital of Maharashtra. 1

825(CD) - 4,40,000

●●J